



## PROGRAMA DE AVALIAÇÃO SERIADA SELETIVA TRIÊNIO 2017-2019 – 3ª ETAPA

Data: **08/12/2019**

Horário: **8h**

Duração da prova:  
**4h30**

### INSTRUÇÕES

1. Leia atentamente as instruções. Não manuseie este caderno de provas até receber autorização.
2. Para fazer esta prova, você usará: a) este caderno de questões; b) um cartão-resposta; c) uma folha de redação.
3. Ao receber autorização, verifique se no caderno constam todas as **60 (sessenta)** questões e se há falhas ou imperfeições gráficas que lhe causem dúvida. Se houver, reclame imediatamente ao fiscal de sala.
4. Verifique, no cartão-resposta, se há marcações indevidas no campo destinado às suas respostas. Se houver, reclame imediatamente.
5. As questões objetivas contêm cinco (5) alternativas, identificadas pelas letras A, B, C, D e E.

Transcreva para o cartão-resposta a alternativa correta.

Há somente uma alternativa correta para cada questão.

Exemplo: Se a alternativa correta de uma determinada questão for B, o candidato deverá preencher totalmente o retângulo correspondente, com caneta esferográfica azul ou preta, conforme modelo abaixo:

A	<input checked="" type="checkbox"/>	C	D	E
---	-------------------------------------	---	---	---

6. Não faça rasuras no cartão-resposta.
7. Procure responder a todas as questões.
8. Durante a prova, não se admite que o candidato comunique-se com outros candidatos, efetue empréstimos, use meios ilícitos ou pratique atos contra as normas ou a disciplina. A fraude, a indisciplina e o desrespeito aos Fiscais encarregados dos trabalhos são faltas que eliminam o candidato.
9. É expressamente proibido que o candidato utilize quaisquer meios de comunicação durante sua permanência no local de prova. Os aparelhos celulares deverão estar desligados, não sendo permitido que eles toquem em nenhum momento durante a realização da prova.

**AO TERMINAR A PROVA, RETIRE SUA  
ETIQUETA DE IDENTIFICAÇÃO DA  
CARTEIRA E COLE AQUI.**

LÍNGUA ESTRANGEIRA MODERNA –  
ESPANHOL (01 A 05)

01 - Leia o texto a seguir.

XXV

Fue Augusto a ver a Víctor, a acariciar al tardío hijo de este, a recrearse en la contemplación de la nueva felicidad de aquel hogar, y de paso a consultar con él sobre el estado de su espíritu. Y al encontrarse con su amigo a solas, le dijo:

–¿Y de aquella novela o... ¿cómo era?... ¡ah, sí, nivola!... que estabas escribiendo?, ¿supongo que ahora, con lo del hijo, la habrás abandonado?

–Pues supones mal. Precisamente por eso, por ser ya padre, he vuelto a ella. Y en ella desahogo el buen humor que me llena.

–¿Querías leerme algo de ella?

Sacó Víctor las cuartillas y empezó a leer por aquí y por allá a su amigo.

(UNAMUNO, Miguel de. *Niebla*. Disponível em: <http://www.ataun.net/BIBLIOTECAGRATUITA/CI%C3%A1sicos%20en%20Espa%C3%B1ol/Miguel%20de%20Unamuno/Niebla.pdf> Acesso em: 12 out. 2019).

No fragmento acima, ocorre o encontro entre dois amigos e eles conversam sobre a escrita de um texto por parte de um deles. Com base nos diálogos, é correto afirmar que:

- A) Víctor está escrevendo um texto dramático e o nascimento de seu filho prejudicou a sua dedicação ao projeto.
- B) Augusto está escrevendo um romance e, com o nascimento do filho, interrompeu a atividade, pois a criança exige atenção constante.
- C) Víctor tinha começado a escrever uma resenha crítica, mas foi obrigado a interromper esse trabalho com o nascimento do filho.
- D) Augusto escreveu algumas páginas de uma sinopse para uma novela, e Víctor pediu-lhe que lesse alguns trechos.
- E) Víctor estava escrevendo um romance e o nascimento do filho serviu como um estímulo para continuá-lo.

02 - Utilize o texto a seguir para responder à questão.

Sin embargo, por lo que respecta a la ciudad moderna, es decir, a aquella composición urbana que se establece entre 1870 y 1900 aproximadamente, la actividad intelectual de los escritores, crecientemente ubicados en un campo literario más autónomo, ofrece el caso del escritor-columnista, escritor-cronista que ve en el periódico un espacio de participación en la vida social, desplegando, gracias a sus estrategias discursivas [...] una suerte de crítica a la

modernidad y a los procesos que ella contiene. [...]

(GALGANI MUÑOZ, Jaime. Escritores en la prensa: autoría y autoridad. Literatura y lingüística, Santiago (Chile), v. 35, p. 225, mai. 2017. Disponível em: <https://scielo.conicyt.cl/pdf/lyl/n35/0716-5811-lyl-35-00219.pdf> Acesso em: 12 out. 2019).

A tradução correta para o português de “sin embargo”, “ubicados” e “desplegando” é, respectivamente:

- A) conseqüentemente, implicados, performando.
- B) portanto, vinculados, diferenciando.
- C) no entanto, situados, desenvolvendo.
- D) certamente, diversificados, fornecendo.
- E) contudo, desvinculados, produzindo.

03 - Leia atentamente o texto a seguir.

Las sequías causan la muerte y el desplazamiento de más personas que los ciclones, las inundaciones y los terremotos juntos, lo que las convierte en el peligro natural más destructivo del mundo.

Debido a los efectos del cambio climático, se prevé que las sequías aumenten en frecuencia e intensidad.

Sin embargo, la mayoría de los países no tiene políticas eficaces para afrontar este fenómeno.

Por esa razón, expertos de distintas agencias especializadas de Naciones Unidas y tomadores de decisión se encuentran reunidos esta semana en Ginebra para debatir políticas nacionales eficaces para reducir el impacto de las sequías.

(MATÍNEZ, Carlos. Las sequías: el peligro natural más destructivo del planeta. 11 mar. 2013. Disponível em: <https://news.un.org/es/audio/2013/03/1400501> Acesso em: 12 out. 2019).

O texto acima trata de um fenômeno climático que exige medidas para reduzir seus efeitos. Com base na sua leitura, conclui-se que se trata:

- A) da poluição atmosférica, que supera os danos causados por inundações e terremotos.
- B) dos efeitos dos raios ultravioletas na vida das pessoas, os quais causam mais danos que enchentes e ciclones.
- C) da chuva ácida causada pela poluição do ar; seus efeitos são potencialmente mais prejudiciais à saúde que aqueles causados por furacões e inundações.
- D) das secas, que são causadas por mudanças climáticas e exigem medidas que possam reduzir seus efeitos para os seres humanos.
- E) da desertificação do planeta, intensificada pela falta de políticas eficientes para enfrentar esse tipo de fenômeno.

**04 -** Leia atentamente o texto a seguir.

A Colón  
Rubén Darío  
[...]

Cristo va por las calles flaco y enclenque,  
Barrabás tiene esclavos y charreteras,  
y en las tierras de Chibcha, Cuzco y Palenque  
han visto engalonadas a las panteras.

Duelos, espantos, guerras, fiebre constante  
en nuestra senda ha puesto la suerte triste:  
¡Cristóforo Colombo, pobre Almirante,  
ruega a Dios por el mundo que descubriste!

En 1892, Rubén Darío llegó a España, acompañado por otros intelectuales hispanoamericanos, para participar en la conmemoración del cuarto centenario del Descubrimiento de América. En Madrid, y mientras se celebraban los actos oficiales en recuerdo de aquel histórico viaje, Darío leyó su poema "A Colón".

(Disponível em: <https://poemario.org/colon/>  
Acesso em: 12 out. 2019).

Ao ler as duas estrofes do poema de Rubén Darío e o texto que o segue, é correto afirmar que:

- A) se nota um elogio à façanha de Cristóvão Colombo, associando-o à figura de Cristo e aos sofrimentos que ambos padeceram.
- B) se ressalta o fato de que Colombo morreu pobre, embora possa ser considerado como um dos navegadores mais importantes de todos os tempos.
- C) há uma idealização da figura de Cristóvão Colombo, símbolo não só da figura do navegador, mas também da necessidade de evangelização no novo continente.
- D) a descoberta da América poderia ter sido um evento pacífico se os colonizadores tivessem aprendido a língua dos povos nativos.
- E) se observa uma crítica a Colombo e um lamento pelas consequências desastrosas da descoberta da América.

**05 -** Leia o texto a seguir.

A pesar de compartir la perspectiva autorreferencial, el diario presenta características diferenciales frente al resto de subgéneros autobiográficos (autobiografía, memorias, epistolario), si bien –señala Bou (1996, p. 122)– en él se producen “con facilidad préstamos intragenéricos”, que lo acercan al libro de viajes o a las memorias. Frente a la totalidad a la que aspira la autobiografía en su evocación del pasado, el diario, a partir de la llamada cláusula del calendario –apriorística limitación del contenido a la data que precede al texto en cada una de sus entradas–, se define por el carácter fragmentario, cotidiano y hodierno, además de por su perspectiva personal [...].

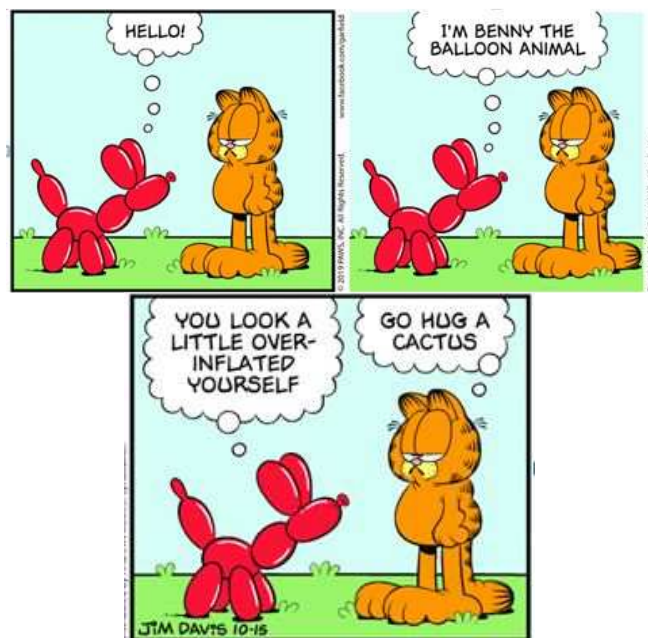
(GÓMEZ-DE-TEJADA, Jesús. Comerse las uñas del yo: la escritura diarística y autobiográfica de Lorenzo García Vega. Atenea, n. 516, II sem. 2017, p. 209. Disponível em: [https://www.researchgate.net/publication/322694076\\_COMERSE\\_LAS\\_UNAS\\_DEL\\_YO\\_LA\\_E\\_SCRITURA\\_DIARISTICA\\_Y\\_AUTOBIOGRAFICA\\_DE\\_LORENZO\\_GARCIA\\_VEGA](https://www.researchgate.net/publication/322694076_COMERSE_LAS_UNAS_DEL_YO_LA_E_SCRITURA_DIARISTICA_Y_AUTOBIOGRAFICA_DE_LORENZO_GARCIA_VEGA) Acesso em: 12 out. 2019).

O pronome “lo”, destacado no seguinte excerto do texto: “**lo** acercan al libro de viajes”, refere-se:

- A) ao calendário.
- B) ao diário.
- C) à autobiografia.
- D) ao gênero epistolar.
- E) a livro de viagens.

### LÍNGUA ESTRANGEIRA MODERNA – INGLÊS (01 A 05)

Read the comic to answer question **01**.



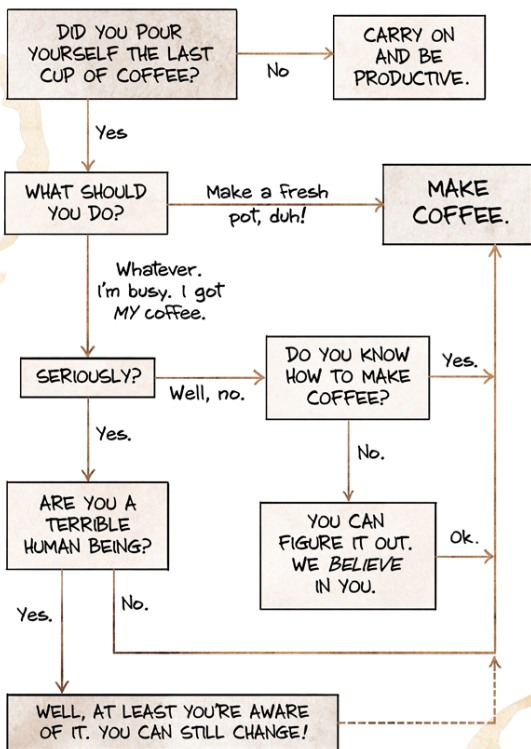
(Fonte: Disponível em: <https://garfield.com/comic/2019/10/15>).

**01 -** In the sentence “You look a little over-inflated yourself”, the word “yourself” is:

- A) um pronome relativo e refere-se ao personagem Garfield.
- B) um pronome reflexivo e refere-se ao personagem Garfield.
- C) um pronome reflexivo e refere-se ao personagem Benny.
- D) um pronome recíproco e refere-se aos dois personagens, Benny e Garfield.
- E) um pronome relativo e refere-se ao personagem Benny.

Read the flowchart to answer question **02**.

## The Office Coffee Flowchart



(Fonte: Disponível em: <http://www.hagarthehorrible.net/>).

**03** - Considering the sentences "I told him it was impolite to eat with his hands" and "He said "Whose hands should I eat with?" choose the correct answer.

- A) As duas frases são reproduções de falas em discurso indireto.
- B) As duas frases são reproduções de falas em discurso direto.
- C) A primeira frase é uma reprodução de fala em discurso indireto e a segunda frase em discurso direto.
- D) A primeira frase é uma reprodução de fala em discurso direto e a segunda frase em discurso indireto.
- E) As duas frases são exemplos de voz passiva.

Read the text to answer questions **04** and **05**.

Bullying behaviour often emerges in childhood, and the consequences for victims can last a lifetime.

When RubySam Youngz was singled out by a bully at the age of 10 in her last year of primary school, she felt isolated and confused. She had just moved with her family from England to Wales and the bully honed in on her accent. They then started mocking her appearance. "Nothing really made sense to me," she says. "I'm in a new place, I don't really know anyone, no one likes me, and I really do not know why."

Youngz says the relentless bullying, which continued through secondary school, had a knock-on effect in all areas of her life, and she took up smoking and drinking in an attempt to cope. Now aged 46, it is only in the past year that she has come to terms with the effect that the bullying had on her.

"I felt like 'no one else likes me, so I don't like me'," she says.

Her experience underlines a painful truth. Children, for all their innocence and inexperience of the world, can be some of the most vicious bullies. Their actions, perhaps less hindered by the social norms we learn in later life, can be merciless, violent and shocking. And they can have life-long implications for the victims.

(Fonte: Disponível em: <<https://www.bbc.com/future/article/20190913-why-some-children-become-merciless-bullies>> Adaptado).

**02** - Choose the correct meaning of the sentences "carry on and be productive" and "you can figure it out".

- A) "Continue e seja produtivo" e "você pode resolver isso".
- B) "Carregue e seja produtivo" e "você pode desenhar isso".
- C) "Levante e seja produtivo" e "você pode descobrir isso".
- D) "Reaja e seja produtivo" e "você pode acreditar nisso".
- E) "Leve e seja produtivo" e "você pode decifrar isso".

Read the comic to answer question **03**.



**04 -** About RubySam Youngz it is correct to affirm that:

- A) ela teve que se mudar com sua família, porque começou a sofrer bullying na escola.
- B) ela havia acabado de se mudar com sua família quando começou a sofrer bullying.
- C) ela não adquiriu nenhum vício, na tentativa de lidar com o bullying.
- D) ela não se abalou apesar de ter sofrido bullying aos 10 anos de idade.
- E) ela aceitou o efeito que o bullying teve sobre ela há muitos anos atrás.

**05 -** According to the text:

- A) o bullying raramente aparece durante a infância e suas consequências podem ser passageiras.
- B) crianças são inocentes e inexperientes, por isso não são capazes de praticar bullying.
- C) o comportamento das crianças é justificado pelas normas sociais aprendidas na idade adulta.
- D) as ações das crianças podem ter implicações ao longo da vida para as vítimas.
- E) o comportamento impiedoso, violento e chocante das crianças pode durar a vida toda.

### LÍNGUA PORTUGUESA E LITERATURA

**06 -** Sobre a obra *Dois irmãos* de Milton Hatoum, é correta a afirmação contida na alternativa:

- A) paralelamente aos conflitos domésticos deflagrados pela rivalidade entre os irmãos gêmeos, o leitor assiste ao franco desenvolvimento da cidade de Manaus, impulsionado pelos imigrantes, em especial os árabes.
- B) além dos imigrantes libaneses, compõe o rol de personagens uma representante das populações indígenas, cuja cultura e cujas crenças são exploradas pelo autor como estratégia de valorização do local, em detrimento do universal.
- C) o tempo do romance é predominantemente cronológico, sendo a(s) história(s) contadas numa sequência linear, obedecendo à lógica do declínio da cidade de Manaus retratado na obra.
- D) o autor exagera na caracterização do espaço geográfico onde transcorre a história dos gêmeos como recurso para afirmação de valores locais e, com isso, trazer de volta para a literatura contemporânea o regionalismo.
- E) o narrador ocupa lugares periféricos no romance: o de filho bastardo da empregada com um dos dois irmãos e o de (re)produtor de uma história da qual, embora ele faça parte, não é o agente principal. Essa condição de subalternidade é reforçada pelo fato de que seu nome, na condição de

narrador, só é revelado a poucas páginas do final da obra.

Para responder à próxima questão, considere os enunciados a seguir, pertinentes a aspectos da biografia e da produção literária de diferentes autores da literatura sul-mato-grossense.

I. "Poeta, escritor, proseador, pesquisador, cientista do folclore e jornalista", autor de *Contos crioulos*, *Caraí*, *Lendas da erva-mate*, entre outras obras, nascido em Nioaque, retrata, em suas obras, as condições históricas da fronteira Brasil-Paraguai do pós-Guerra do Paraguai, o desenvolvimento econômico do sul do Estado e da fronteira, juntamente com uma nova fase do modo capitalista de produção dessa região: a exploração da erva-mate" (Zélia R. Nolasco dos Santos Freire).

II. "Poeta de Três Lagoas, marca o início de sua produção literária com a publicação de *Cirros* (1960)", em que "despontam algumas evidências de seu estilo pessoal: a preferência pelo verso curto, a voz feminina, a metalinguagem, além de apropriações de elementos tais como a noite e a velocidade do tempo. Seguem-se as publicações de *Antologia Dimensional de Poetas Três-Lagoenses* (1983), *Cantos e Recantos* (1987), *Retratos* (1993), além de crônicas e críticas publicadas nos jornais da cidade" e da obra *Haicais* (1999), em que "a preferência pelo verso curto mais uma vez é ressaltada" (José Antonio de Souza).

III. "Autor do poema 'Destino do poeta desconhecido', que abre o livro *Areôtorare*, e da obra *Sarobá*, o poeta corumbaense se utiliza do verso livre, da notação elíptica do verso e da disposição gráfico-espacial na folha em branco, num procedimento modernista, para criar imagens que, como no poema 'Aranha tecedeira', brotam da própria tessitura textual para significar a relação analógico-comparativa entre a aranha tecedeira e o poeta [...]" (Paulo Sérgio Nolasco dos Santos). "O autor também produz textos em que explora poeticamente questões pertinentes à negritude e ao indígena" (José Antonio de Souza).

**07 -** As informações contidas em I, II e III referem-se, respectivamente, a:

- A) Brígido Ibanhes, Rosário Congro e Manoel de Barros.
- B) Helio Serejo, Flora Thomé e Lobivar Matos.
- C) Elpídio Reis, Flora Thomé e Douglas Diegues.
- D) Cláudio Valério da Silva, Raquel Naveira e Lobivar Matos.
- E) Helio Serejo, Raquel Naveira e Manoel de Barros.

Considere os fragmentos do conto "Natal na barca", de Lygia Fagundes Telles, para responder às questões **08** e **09**.

"Não quero nem devo lembrar aqui por que me encontrava naquela barca. Só sei que em redor tudo era silêncio e treva. E que me sentia bem naquela solidão. Na embarcação desconfortável, tosca, apenas quatro passageiros. Uma lanterna nos iluminava com sua luz vacilante: um velho, uma mulher com uma criança e eu [...]"

"[...] Debrucei-me na grade de madeira carcomida. Acendi um cigarro. Ali estávamos os quatro, silenciosos como mortos num antigo barco de mortos deslizando na escuridão. Contudo, estávamos vivos. E era Natal [...]"

"[...] Fiquei sem saber o que dizer. Esbocei um gesto e em seguida, apenas para fazer alguma coisa, levantei a ponta do xale que cobria a cabeça da criança. Deixei cair o xale novamente e voltei-me para o rio. O menino estava morto. Entrelacei as mãos para dominar o tremor que me sacudiu. Estava morto. A mãe continuava a niná-lo, apertando-o contra o peito. Mas ele estava morto".

"- Acordou o dorminhoco! E olha aí, deve estar agora sem nenhuma febre!

- Acordou?!

Ela sorriu:

- Veja...

Inclinei-me. A criança abriu os olhos - aqueles olhos que eu vira cerrados tão definitivamente. E bocejava, esfregando a mãozinha na face corada. Fiquei olhando sem conseguir falar".

**08** - Com relação às características do espaço onde se passa a narrativa, é correto afirmar que:

- A) há elementos que colaboram na construção de um clima melancólico, o que pode ser observado pelo emprego da sequência "silêncio e treva".
- B) o espaço reduzido da barca opera como desencadeador das impressões que a narradora manifesta sobre a mulher e a criança.
- C) a narradora faz referência ao rio como um elemento associado à morte, à perda da esperança e à fuga do sofrimento.
- D) a imagem constituída na barca e na cerca sobre a qual a narradora se apoia representa um elemento da tensão e da ruína vividas por ela.
- E) seus elementos pouco ou nada interferem no clima da narrativa, tampouco colaboram na produção dos efeitos de sentido no conjunto dos trechos.

**09** - "No fim da década de 1940, a prosa de ficção brasileira passa por uma transformação radical. A exploração da linguagem, matéria-prima do texto, favorece novas experiências que rompem com a estrutura tradicional da narrativa ao mesmo tempo que permitem um mergulho na mais funda intimidade do ser humano" (ABURRE; PONTARA. *Literatura brasileira: tempos, leitores e leituras*. São Paulo: Moderna, 2005). A escritora Lygia Fagundes Telles insere-se nesse contexto, integrando, portanto, a geração da prosa pós-moderna da literatura brasileira. O estilo dessa contista é marcado por:

- A) recriar a linguagem, colocando em evidência o homem simples, inculto, sem deixar de lado reflexões filosóficas.
- B) tratar com bom humor e ingenuidade o cotidiano urbano, explorando a caricatura e a crítica dos costumes.
- C) construir uma literatura focalizada no olhar feminino da realidade e na descoberta do mundo interior dos seres humanos.
- D) privilegiar o discurso religioso, em confronto com o profano, discutindo as contradições por meio de antíteses e paradoxos.
- E) explorar a figura feminina como protagonista de narrativas em que a mulher é vista como um ser idealizado, puro e angelical.

Considere o excerto a seguir para responder às questões de **10** a **12**.

### **Clementina de Jesus**

(Valença, RJ, 1901 - Rio de Janeiro, RJ, 1987)

"Sambista fluminense, dona de uma voz inconfundível, potente e ancestral, Clementina de Jesus foi a síntese do Brasil, expressão de um país de forte herança africana e de singular formação religiosa. Conhecida como Rainha Quelé, carregava consigo os banzos de seus ancestrais, transformados em cantos, encantos e segredos nos jongos, no partido-alto e nas curimbas que cantava. Diferentemente das conhecidas e famosas "divas do rádio" que brilharam na primeira metade do século XX, a cantora negra tinha um timbre de voz grave, mas com grande extensão e um repertório de músicas afro-brasileiras tradicionais.

Nascida na cidade de Valença (RJ), região do Vale do Paraíba, tradicional reduto de jongueiros, Clementina era filha da parteira Amélia de Jesus dos Santos e de Paulo Batista dos Santos, capoeira e violeiro da região. Uma de suas avós chamava-se Teresa Mina. A pequena Clementina viveu a infância na cidade natal, ouvindo sua mãe cantar enquanto lavava as roupas à beira do rio. Assim foi guardando na memória tesouros que mais tarde gravaria em discos. Aos sete anos veio com a família para a cidade do Rio de Janeiro, bairro de Oswaldo Cruz, onde mais tarde surgiria a tradicional Escola de Samba Portela. Lá frequentou em regime semi-interno o Orfanato

Santo Antônio e "Cresceu assim num misticismo estranho: vindo a mãe rezar em jeje nagô e cantar num dialeto provavelmente iorubano, e ao mesmo tempo apegada à crença católica." (Hermínio Bello de Carvalho).

(Museu Afrobrasil. Disponível em <http://www.museuafrobrasil.org.br/pesquisa/hist%C3%B3ria-e-mem%C3%B3ria/historia-e-memoria/2014/07/17/clementina-de-jesus>).

**10** - Os gêneros textuais existem em função das nossas necessidades comunicativas e se diferenciam, entre outros aspectos, de acordo com a situação de comunicação. Levando em conta essa informação e considerando a estrutura e o conteúdo que apresenta, o excerto de Hermínio Bello de Carvalho pode ser considerado:

- A) notícia.
- B) artigo de opinião.
- C) conto.
- D) crônica.
- E) biografia.

**11** - Em "Nascida na cidade de Valença (RJ), região do Vale do Paraíba, tradicional reduto de jongueiros, Clementina era filha da parteira Amélia de Jesus dos Santos e de Paulo Batista dos Santos, capoeira e violeiro da região. Uma de suas avós chamava-se Teresa Mina", o trecho em destaque é:

- A) adjunto adnominal.
- B) aposto.
- C) objeto direto.
- D) complemento nominal.
- E) vocativo.

**12** - Em "Sambista fluminense, dona de uma voz inconfundível, potente e ancestral, Clementina de Jesus foi a **síntese** do Brasil, expressão de um país de forte herança africana e de singular formação religiosa", a palavra em destaque é acentuada por ser:

- A) oxítona terminada em e.
- B) paroxítona terminada em e.
- C) proparoxítona.
- D) oxítona terminada em ditongo aberto.
- E) paroxítona terminada em ditongo decrescente.

Considere o excerto a seguir para responder às questões **13** e **14**.

O que é o jongo?

O jongo é uma prática com versos, dança, ritmos e crenças africanas, originalmente cultivada pelos escravos nas fazendas de café do Vale do Paraíba, durante o período colonial. Os senhores de escravos achavam que era só festa, mas os versos dos(as) jongueiros(as) traziam mensagens que só eles(as) entendiam, com alusão às entidades (espíritos dos "pretos velhos") e protestos, por exemplo. Com o fim da escravidão, sem uma política de distribuição de

terras, muitos(as) negros(as) foram morar nas áreas mais periféricas do Rio de Janeiro, como os morros de São Carlos, Salgueiro, Mangueira e Serrinha, e lá mantiveram essa tradição. Na medida em que eles(as) foram morrendo, o jongo foi desaparecendo. Na Serrinha, o músico Darcy Monteiro, filho de Pedro Monteiro e da mãe de santo e jongueira Vovó Maria Joana Rezadeira, passou a ensinar a dança para as crianças e levou o jongo para os palcos de teatros do Brasil e do exterior. Para alguns, ele salvou o jongo do desaparecimento; para outros, desrespeitou a tradição".

(BALTHASAR; GOULART. *Singular & Plural: leitura, produção e estudos de linguagem*. São Paulo: Moderna, 2018).

**13** - O trecho "Com o fim da escravidão, sem uma política de distribuição de terras, muitos(as) negros(as) foram morar nas áreas mais periféricas do Rio de Janeiro, como os morros de São Carlos, Salgueiro, Mangueira e Serrinha, e lá mantiveram essa tradição" poderia ser reescrito, sem alteração de sentido na alternativa:

- A) "Devido ao fim da escravidão, com uma política de distribuição de terras, muitos(as) negros(as) foram morar nas áreas mais periféricas do Rio de Janeiro, como os morros de São Carlos, Salgueiro, Mangueira e Serrinha, e lá mantiveram essa tradição."
- B) "Em função do fim da escravidão, devido a uma política de distribuição de terras, muitos(as) negros(as) foram morar nas áreas mais periféricas do Rio de Janeiro, como os morros de São Carlos, Salgueiro, Mangueira e Serrinha, e lá mantiveram essa tradição."
- C) "Com o fim da escravidão, sem que houvesse uma política de distribuição de terras, muitos(as) negros(as) foram morar nas áreas mais periféricas do Rio de Janeiro, como os morros de São Carlos, Salgueiro, Mangueira e Serrinha, e aqui mantiveram essa tradição."
- D) "Devido ao fim da escravidão, sem que houvesse uma política de distribuição de terras, muitos(as) negros(as) foram morar nas áreas mais periféricas do Rio de Janeiro, como os morros de São Carlos, Salgueiro, Mangueira e Serrinha, e lá mantiveram essa tradição."
- E) "Com o fim da escravidão, sem uma política de distribuição de terras, alguns(as) negros(as) foram morar nas áreas mais periféricas do Rio de Janeiro, como os morros de São Carlos, Salgueiro, Mangueira e Serrinha, e aqui mantiveram essa tradição."

**14 -** Em "Para alguns, ele salvou o jongo do desaparecimento; para outros, desrespeitou a tradição", o pronome destacado retoma qual termo do período que o antecede?

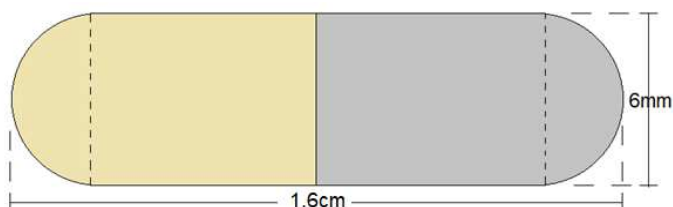
- A) "Pedro Monteiro".
- B) "o jongo".
- C) "palcos de teatro".
- D) "Brasil".
- E) "o músico Darcy Monteiro".

**15 -** Sabendo que o fenômeno conhecido como crase é a fusão da preposição (a) com o artigo feminino (a), indique a opção em que o acento indicador da crase foi corretamente empregado.

- A) Os senhores de escravos atribuíam à prática um significado festivo.
- B) A dança passou à ser ensinada às crianças das comunidades periféricas.
- C) À escravidão chegou ao final, mas não havia política de distribuição de renda.
- D) Com o fim da escravidão, aquela comunidade passou à ocupar outras áreas.
- E) Os palcos nacionais receberam às danças do jongo cantadas por Clementina.

### MATEMÁTICA E SUAS TECNOLOGIAS

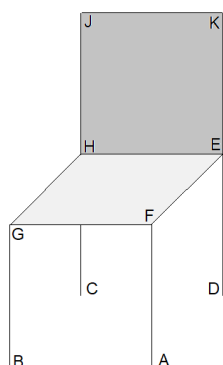
**16 -** Um paciente da Santa Casa está tomando um medicamento com as dimensões do comprimido da figura, um cilindro e duas semiesferas.



Se a densidade do medicamento é de  $d = 0,95 \text{ g/cm}^3$  e  $\pi = 3$ , a massa em cada capsula é de:

- A) 2.462,4 mg.
- B) 1.846,8 mg.
- C) 513,0 mg.
- D) 359,1 mg.
- E) 184,7 mg.

**17 -** Um artesão foi incumbido de produzir uma cadeira conforme a figura a seguir:



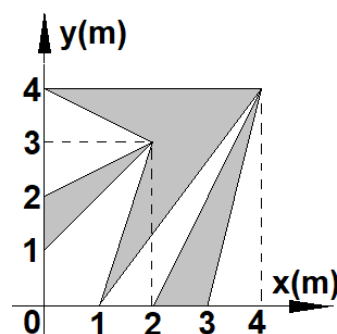
Na ilustração, o encosto (JHEK) e as pernas (AF, BG, CH e DE) são perpendiculares ao assento da cadeira. Ao vê-la pronta, seu filho explicou corretamente que:

- A) os pés AF e BG são reversos.
- B) a lateral JK é ortogonal a perna BG.
- C) a lateral HJ é concorrente a perna AF.
- D) as laterais EF e GH são perpendiculares.
- E) o plano EFGH é coincidente ao plano EHJK.

**18 -** Na preparação de seus alunos para a Olimpíadas Brasileira de Matemática (OBM), a professora Maria propôs a seguinte expressão para seus alunos:  $104^4 - 4 \cdot 104^3 \cdot 4 + 6 \cdot 104^2 \cdot 4^2 - 4 \cdot 104 \cdot 4^3 + 4^4$ . O resultado encontrado foi:

- A)  $10^2$ .
- B)  $10^4$ .
- C)  $400^2$ .
- D)  $10^8$ .
- E)  $400^4$ .

**19 -** No parque das Nações Indígenas, em Campo Grande, existe um mosaico no jardim conforme a figura a seguir:



A área hachurada do jardim é:

- A)  $16 \text{ m}^2$ .
- B)  $10 \text{ m}^2$ .
- C)  $9 \text{ m}^2$ .
- D)  $8,5 \text{ m}^2$ .
- E)  $7,5 \text{ m}^2$ .

**20 -** No curso de Engenharia Elétrica da UFMS, um estudante, ao tentar resolver um circuito elétrico, chegou à seguinte matriz:

$$\begin{bmatrix} i & 0 & 0 \\ 0 & 0 & i \\ 0 & i & 0 \end{bmatrix} \cdot 25 \cdot i, \text{ na qual } i \text{ é a unidade imaginária.}$$

A solução do circuito elétrico encontrada pelo estudante foi:

- A)  $-25$ .
- B)  $-i$ .
- C)  $0$ .
- D)  $i$ .
- E)  $25$ .



**21** - Os estudos dos polinômios são fundamentais na área da Matemática. Assim, ao se estudar esse campo, pode ser proposto que, para dois polinômios  $M(x)$  e  $N(x)$ , são tais que  $M(x) + N(x)$  é de grau 8 e que  $M(x) - N(x)$  é igual a 3.

Então, ao fazer  $M(x) \cdot N(x)$ , obtém-se um polinômio de grau:

- A) 4.
- B) 5.
- C) 8.
- D) 11.
- E) 16.

Texto para às questões de **22** a **24**.

A figura a seguir, apresenta o relatório de pontuação mínima (nota de corte) para alguns cursos do Processo Seletivo Vestibular UFMS 2019.



Universidade Federal de Mato Grosso do Sul  
Pró-Reitoria de Graduação  
Processo Seletivo Vestibular UFMS 2019  
Relatório de Pontuação Mínima (notas de corte)

Código	Nome do Curso	AC	L1	L2	L5	L6	L9	L10	L13	L14
<b>Unidade Setorial: FAMED - Faculdade de Medicina (Campo Grande)</b>										
1002	MEDICINA - BACHARELADO	784,94	739,48	740,61	731,16	599,39	767,59	370,23	643,98	677,02
<b>Unidade Setorial: FAODO - Faculdade de Odontologia (Campo Grande)</b>										
1102	ODONTOLOGIA - BACHARELADO	658,95	617,62	564,00	642,27	524,16	--	--	--	--
<b>Unidade Setorial: FAMEZ - Faculdade de Medicina Veterinária e Zootecnia (Campo Grande)</b>										
1201	MEDICINA VETERINÁRIA BACHARELADO	683,97	611,61	584,75	676,44	529,94	--	--	--	--
1203	ZOOTECNIA - BACHARELADO	455,54	376,47	412,04	484,63	385,80	--	--	--	--

(Disponível em: [https://ingresso.ufms.br/files/2019/05/psv2019\\_pnt\\_min.pdf](https://ingresso.ufms.br/files/2019/05/psv2019_pnt_min.pdf). Acesso em: 28 out. 2019. Adaptado).

**22** - Considerando apenas as notas do curso de Medicina – Bacharelado, a mediana é:

- A) 370,23.
- B) 599,39.
- C) 643,98.
- D) 677,02.
- E) 731,16.

**23** - A diferença entre a média aritmética das notas de corte da FAMEZ e a mediana da FAODO é, em módulo, aproximadamente,

- A) 97,50.
- B) 65,60.
- C) 51,96.
- D) 43,88.
- E) 20,75.

**24** - Considerando apenas a casa das centenas, o dígito, que é a moda das notas de corte para a FAMED, FAODO e FAMEZ, é:

- A) 3.
- B) 4.
- C) 5.
- D) 6.
- E) 7.

**25** - Um artesão de Água Clara utilizou um troco de árvore para esculpir uma mesa no formato de um tronco de cone reto que possui raio maior medindo  $2m$ , raio menor  $1m$  e altura  $1m$ . É necessário aplicar uma camada de resina na superfície lateral do tronco de cone para assegurar uma maior durabilidade. Qual a medida da área que receberá a aplicação de resina?

- A)  $4\pi\sqrt{5} m^2$ .
- B)  $3\pi\sqrt{2} m^2$ .
- C)  $\frac{7\pi}{3} m^2$ .
- D)  $3\pi\sqrt{5} m^2$ .
- E)  $\frac{4\pi\sqrt{2}}{3} m^2$ .

**26** - Uma caldeira do parque industrial de Três Lagoas, usada para branqueamento de materiais de celulose, possui o formato de um prisma hexagonal regular cuja aresta da base mede  $2m$  e a aresta lateral mede  $8m$ . Assinale a alternativa correta.

- A) O volume da caldeira é igual a  $48\sqrt{2} m^3$ .
- B) A razão entre a medida da superfície total do prisma e a superfície lateral é  $\frac{16+\sqrt{3}}{16}$ .
- C) A medida da superfície lateral da caldeira é  $48 m^2$ .
- D) A medida da superfície total do prisma é  $12(8 + \sqrt{3}) m^2$ .
- E) O volume da caldeira é igual a  $96\sqrt{3} m^3$ .

**27** - A forma trigonométrica do número complexo  $Z = (1 + i)(2 + 2i)(4 + 4i)$  é equivalente a:

- A)  $8(\cos \frac{3\pi}{2} + i \sen \frac{3\pi}{2})$ .
- B)  $16(\cos \frac{3\pi}{4} + i \sen \frac{3\pi}{4})$ .
- C)  $16\sqrt{2}(\cos \frac{3\pi}{4} + i \sen \frac{\pi}{4})$ .
- D)  $8\sqrt{2}(\cos \frac{3\pi}{4} + i \sen \frac{3\pi}{4})$ .
- E)  $4(\cos \frac{\pi}{2} + i \sen \frac{\pi}{2})$ .

**28 -** Um polinômio  $p(x)$  de coeficientes reais é divisível por  $x + 2i$  e divisível por  $x - i\sqrt{3}$ . Então,  $p(x)$  é equivalente a:

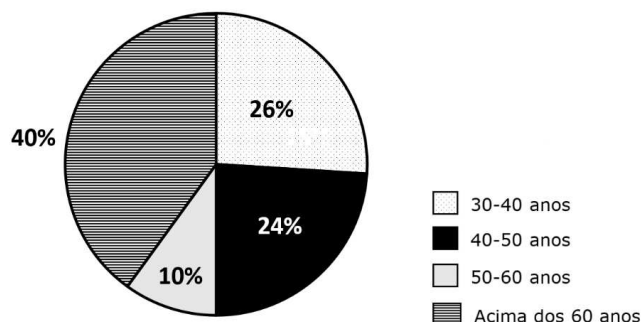
- A)  $\sqrt{3}x^4 + 7\sqrt{3}x^2 + 12\sqrt{3}$ .
- B)  $x^2 + i(2 + \sqrt{3})x + 2\sqrt{3}$ .
- C)  $x^4 - 7x^2 + 12$ .
- D)  $x^4 + 2i(2 - \sqrt{3})x^3 + (-7 + 8\sqrt{3})x^2 + i(12 + 8\sqrt{3})x + 12$ .
- E)  $x^2 + i(2 - \sqrt{3})x + 2\sqrt{3}$ .

**29 -** Sejam as equações de reta  $r: 2x + y = -1$ ,  $s: -6x + 3y = 3$ ,  $t: x + y = -5$ . Assinale a alternativa correta.

- A) As retas  $r$  e  $s$  são paralelas.
- B) A reta  $s$  é perpendicular à reta  $t$ .
- C) As retas  $t$  e  $s$  são paralelas.
- D) As retas  $r$  e  $s$  são perpendiculares.
- E) As retas  $s$  e  $t$  são concorrentes.

**30 -** Um grupo de 150 pessoas participou de um teste promovido por um laboratório farmacêutico. Nesse teste, foram submetidos ao uso de um novo medicamento. O gráfico a seguir mostra a relação entre o número de pessoas que participaram do teste e a idade delas.

Idade dos participantes do teste



Com relação ao gráfico, é correto afirmar que:

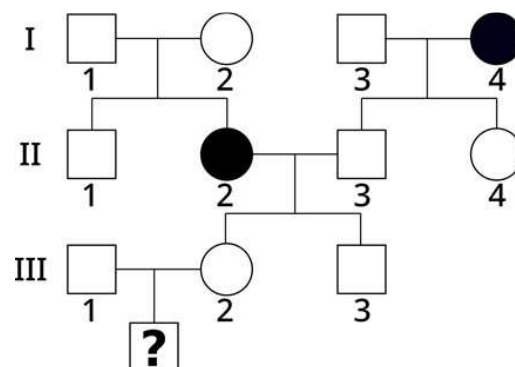
- A) metade dos participantes do teste está acima dos 60 anos.
- B)  $\frac{1}{4}$  dos participantes possui idade entre 40 e 50 anos.
- C) com relação à idade dos participantes, a moda será a faixa etária de 30-40 anos.
- D) 10 pessoas possuem idade entre 50 e 60 anos.
- E) 39 pessoas possuem idade entre 30-40 anos.

### CIÊNCIAS DA NATUREZA E SUAS TECNOLOGIAS

**31 -** Não disjunção é a falha de separação de cromatídeos irmãos ou cromossomos homólogos durante a divisão celular. Qual das alternativas é correta sobre a não disjunção durante a meiose?

- A) A não disjunção ocorre apenas durante a meiose II.
- B) A não disjunção afeta os cromossomos sexuais, mas não afeta o número autossômico de cromossomos.
- C) A não disjunção que resulta em monossomias raramente tem um efeito letal no desenvolvimento humano.
- D) A não disjunção pode resultar em células aneuplóides.
- E) A não disjunção ocorre apenas nos cromossomos autossômicos.

**32 -** O heredograma a seguir mostra famílias em que uma alteração genética está presente, sendo determinada por um gene com herança autossômica recessiva. Nessa população, uma em cada 150 pessoas é heterozigótica para essa alteração. O casal III1 e III2 está esperando um menino. Qual a probabilidade de que esse menino seja afetado pela alteração genética?



- A)  $1/150$ .
- B)  $1/300$ .
- C)  $1/450$ .
- D)  $1/600$ .
- E)  $1/750$ .

**33 -** Defaunação é a diminuição acelerada e drástica de espécies animais, com efeitos negativos sobre a demografia, a diversidade biológica e a manutenção de ecossistemas. Em florestas tropicais, muitas árvores dependem de animais como antas e macacos. Na agricultura, a produção de muitas culturas depende das abelhas, que estão desaparecendo. Os serviços prestados pelas abelhas são avaliados pela FAO em US\$ 54 bilhões por ano. Ainda não existem pesquisas que concluam os motivos do desaparecimento das abelhas. É provável que o problema seja uma combinação de vários fatores estressantes que debilitam as abelhas, deixando-as sem defesa. Os animais citados no texto, mamíferos e abelhas, atuam, respectivamente:

- A) na dispersão das sementes e na polinização.
- B) na polinização e na dispersão das sementes.
- C) na dispersão das sementes e no controle de pragas.
- D) no controle de pragas e na dispersão das sementes.
- E) no controle de pragas e na polinização.

**34 -** "Populações podem ser reguladas tanto por fatores dependentes quanto independentes da densidade. Todas as populações apresentam flutuações no seu tamanho ao longo tempo, determinadas por inúmeros fatores" (RICKLEFS, R. & Relyea, R. *A Economia da Natureza*. 7. ed. Rio de Janeiro: Guanabara Koogan, 2014). Com base nesta dinâmica populacional, indique a alternativa que descreve corretamente o termo "ciclos populacionais".

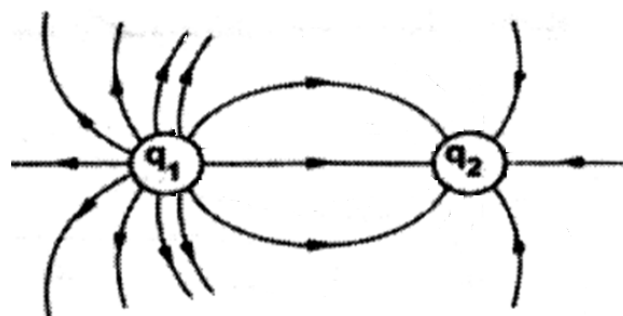
- A) Declínio substancial na densidade de uma população.
- B) Crescimento de uma população além de sua capacidade de suporte.
- C) Oscilação regular de uma população durante um período de tempo longo.
- D) Flutuação na estrutura etária de uma população entre estações.
- E) Evento que pode fazer uma população se extinguir.

**35 -** "Mundialmente, a biodiversidade enfrenta uma ampla variedade de ameaças, especialmente devido ao crescimento da população humana, o que tem favorecido a extinção de espécies em uma taxa alta. Para mitigar esses efeitos negativos, os conservacionistas procuram maneiras de proteger os ecossistemas, sobretudo aqueles que apresentam grande diversidade de espécies endêmicas. Em 1998, Norman Myers cunhou o termo 'hotspots de biodiversidade' para áreas especialmente ricas. Posteriormente, a Conservação Internacional adotou a abordagem de Myers e definiu que hotspots de biodiversidade seriam áreas com pelo menos 1.500 espécies endêmicas de plantas, e que haviam sofrido perda de pelo menos 70% da

vegetação decorrente de atividades humanas" (Ricklefs, R. & Relyea, R. *A Economia da Natureza*. 7. ed. Rio de Janeiro: Guanabara Koogan, 2014). Neste contexto, indique a alternativa que apresenta os biomas considerados hotspots de biodiversidade no Brasil.

- A) Cerrado e Mata Atlântica.
- B) Amazônia e Cerrado.
- C) Cerrado e Pantanal.
- D) Amazônia e Mata Atlântica.
- E) Caatinga e Pampa.

**36 -** Em um experimento feito no laboratório de Física da UFMS para a determinação das cargas elétricas através das linhas de força, foi obtido o modelo da figura a seguir:



A partir desse modelo, é correto afirmar que a relação entre as cargas é de:

- A)  $q_1 = 6q_2$ .
- B)  $q_1 = 2q_2$ .
- C)  $q_1 = q_2$ .
- D)  $q_1 = -q_2$ .
- E)  $q_1 = -2q_2$ .

**37 -** A linha de transmissão de energia em uma determinada cidade é de 55 kV e, ao chegar a um transformador, é modificada para a residência com 110 V. A relação do número de espiras do primário e secundário do transformador e como ele opera são, respectivamente,

- A)  $\frac{N_1}{N_2} = 500$  e elevador de tensão.
- B)  $\frac{N_1}{N_2} = 2$  e redutor de tensão.
- C)  $\frac{N_1}{N_2} = 2$  e elevador de tensão.
- D)  $\frac{N_1}{N_2} = 500$  e redutor de tensão.
- E)  $\frac{N_1}{N_2} = 200$  e redutor de tensão.

**38** - O Programa Apollo foi um conjunto de missões espaciais coordenadas pela NASA (Agência Espacial dos Estados Unidos) entre 1961 e 1972, com o objetivo de colocar o homem na Lua. O projeto teve seu momento mais emblemático com o pouso da Apollo 11 no solo lunar em 20 de julho de 1969. Chegando à Lua, foi dita uma frase pelo astronauta Neil Armstrong: "Um pequeno passo para um homem, um salto gigante para a humanidade". A comunicação entre a nave na Lua e a base da NASA na Terra, só era possível por um tipo específico de ondas que se propagam no vácuo. Essas ondas são do tipo:

- A) mecânicas.
- B) eletromagnéticas.
- C) bidimensionais.
- D) unidimensionais.
- E) qualquer tipo de onda.

**39** - "O Contran lançou uma resolução (465) que regulamentou o uso das bicicletas elétricas, equiparando-as às bicicletas comuns. A partir desta resolução, as bicicletas elétricas estão isentas de emplacamento, e o condutor não precisa possuir CNH. Entretanto, para circular em vias públicas, deverão ter no máximo 350 watts, atingir velocidade de no máximo 25 km/h e precisam ter o Pedelec (pedal assistido)" (Texto extraído e adaptado de: <https://www.samservicos.com.br/bicicletas-eletricas-regulamentadas-contran/>). Porém, os chineses não ficaram muito contentes com essa regulamentação, pois eles acabaram de lançar uma nova bicicleta elétrica, que em seu manual traz as seguintes especificações: massa da bicicleta= 60 kg, potência do motor= 5 cv (considere 1 cv = 750 W), suporta até 120 kg e possui autonomia = 20 horas. Se ela for acelerada por um ciclista de 75kg, a toda potência, partindo do repouso em uma estrada retilínea e horizontal, a velocidade máxima que é de 72 km/h será atingida em que tempo, aproximadamente?

- A) 10,2 segundos.
- B) 7,2 segundos.
- C) 3,6 segundos.
- D) 8,2 segundos.
- E) 12,2 segundos.

**40** - "No dia em que se comemora a avicultura e a atividade de avicultor, Mato Grosso do Sul se posiciona como espaço ideal para investimentos na área. O setor abate 643 mil aves ao dia e, para isso, tem um rebanho de 22 milhões de aves. O setor avícola gera 8,8 mil empregos diretos em MS" (Texto extraído e adaptado de: <http://www.douradosnews.com.br/noticias/economia/setor-avicola-gera-88-mil-empregos-diretos-em-ms/1054516/>). Alguns avicultores foram surpreendidos por uma forte chuva e ventos de até 87 km/h, deixando rastros de destruição. Em uma das propriedades avícolas, os ventos destelharam galinheiros e derrubaram postes,

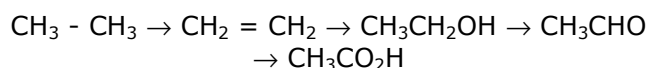
danificando alguns pequenos transformadores. Em um transformador danificado, estavam escritas apenas as seguintes especificações: potência nominal máxima 6750 W e intensidade de corrente elétrica induzida no secundário  $i_2 = 45$  A. Pergunta-se: qual é a tensão originada no secundário?

- A)  $U_2 = 45$  V.
- B)  $U_2 = 303750$  V.
- C)  $U_2 = 150$  V.
- D)  $U_2 = 600$  V.
- E)  $U_2 = 6750$  V.

**41** - A garrafa PET tem se tornado um tipo de lixo muito reutilizável em nosso cotidiano. É empregada para o plantio de hortaliças e se transforma em sacolas, capas de caderno e até em roupas. É um produto 100% reciclável e possui um baixo custo de produção. PET é uma das resinas termoplásticas da mesma família do poliéster, que são polímeros, e o nome do PET é Polietilenotereftato. É correto que ele é resultado da:

- A) condensação de monômeros diferentes e eliminação de moléculas de água.
- B) condensação de monômeros diferentes e adição de moléculas de água.
- C) adição de monômeros iguais e adição de moléculas de água.
- D) adição de monômeros diferentes e adição de moléculas de água.
- E) adição de monômeros diferentes.

**42** - Um químico realizou um experimento em seu laboratório para analisar o comportamento oxidante e redutor de alguns tipos de compostos. Ele dividiu esse experimento em 4 etapas, iniciando com o etano. Os 4 produtos obtidos foram registrados em sequência, como segue:



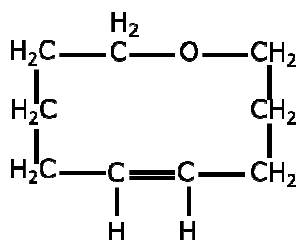
O químico concluiu corretamente a realização de:

- A) quatro reações de redução.
- B) duas reações de redução e duas reações de oxidação.
- C) uma reação de redução e três reações de oxidação.
- D) quatro reações de oxidação.
- E) três reações de oxidação e uma reação de redução.

**43** - Um hidrocarboneto apresenta a seguinte composição centesimal, em massa: C85,71% H 14,29%. Sabe-se que 0,25 mol dessa substância pesa 14g. A quantidade de isômeros planos que esse composto formará é de:

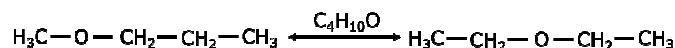
- A) 2.
- B) 3.
- C) 4.
- D) 5.
- E) 6.

**44 -** Referente aos tipos de cadeias carbônicas, a cadeia apresentada a seguir pode ser classificada como:



- A) insaturada, fechada, heterogênea e alicíclica.
- B) saturada, fechada, heterogênea e alicíclica.
- C) saturada, aberta, homogênea e aromática.
- D) insaturada, fechada, homogênea e aromática.
- E) insaturada, aberta, heterogênea e alicíclica.

**45 -** O tipo de isomeria que ocorre no par de compostos a seguir é denominado:



- A) isomeria de função.
- B) metameria.
- C) isomeria de cadeia.
- D) tautomeria.
- E) isomeria de posição.

### CIÊNCIAS HUMANAS E SUAS TECNOLOGIAS

**46 -** Leia o título da reportagem extraída da *Revista Exame*: "Banco de Desenvolvimento do Brics deve ampliar atuação no Brasil. Atualmente, o banco financia no país mais de US\$ 600 milhões em projetos nas áreas de infraestrutura, transportes e saneamento básico no país" (Disponível em: <https://exame.abril.com.br/economia/banco-de-desenvolvimento-do-brics-deve-ampliar-atuacao-no-brasil/>).

Sobre o BRICS, assinale a opção correta.

- A) Corresponde a um novo bloco econômico, em processo de formação, liderado pelo governo chinês.
- B) É um grupo composto pelos países considerados emergentes, formando um dos maiores blocos econômicos do planeta, atrás apenas da União Europeia.
- C) A China é um país que faz parte dos chamados BRICS e que sofreu com uma profunda crise por volta dos anos 1990, superando as suas dificuldades econômicas a partir das exportações de combustíveis fósseis, sobretudo o petróleo.
- D) Os países membros do BRIC (Brasil, Rússia, Índia e China) não apresentam características econômicas promissoras para as próximas décadas.
- E) O Brics é um grupo político formado por Brasil, Rússia, Índia, China e África do Sul. Os países membros são de economia emergente que, juntos, representam aproximadamente 18% do comércio mundial. A coordenação entre os países começou de maneira informal em 2006 durante uma Assembleia Geral das Nações Unidas e foi formalizada em 2009, com a entrada da África do Sul. O Brics atua na cooperação em diferentes áreas, desde a saúde e a educação até a economia e o combate a crimes transnacionais. A presidência do Brics é rotativa.

**47 -** "A venda da Usinas Siderúrgicas de Minas Gerais (Usiminas), em outubro de 1991, inaugurou o PND" (MOREIRA, 2002).

Sobre o Programa Nacional de Desestatização (PND), assinale a opção que conceitua corretamente este programa.

- A) Um dos objetivos do Programa é contribuir para a redução da dívida pública, concorrendo para a reparação das finanças do Setor Público.
- B) Impedir que novos investimentos fossem transferidos ao Setor Externo.
- C) O Programa teve como objetivo conceder parcerias público-privadas em diferentes setores produtivos do País.
- D) O PND foi instituído para aumentar a capacidade de financiamento de obras públicas nos anos 1990.
- E) A desestatização ou privatização compreende, neste Programa, o financiamento de empresas estatais ou a abertura de capital para o Estado desenvolver e criar agências de fomento.

**48 -** De acordo com os aspectos naturais do continente europeu, as regiões localizadas ao norte e no centro possuem as temperaturas mais frias e na parte meridional do continente, as temperaturas são mais quentes. No sentido leste ou continental, a umidade relativa do ar fica mais seca, com maior variação da temperatura, com invernos bem rigorosos e verões quentes. É correto afirmar que este clima é do tipo:

- A) temperado.
- B) equatorial.
- C) tropical.
- D) árido.
- E) semiárido.

**49** - "Em 2016, eleitores escolheram, em plebiscito, que o Reino Unido deveria sair da União Europeia (UE). Em março de 2017, tal decisão foi notificada ao bloco, que foi comunicado que o desmembramento se efetivaria dois anos depois. Em março de 2019, a separação não aconteceu. Neste período, um acordo de saída desenhado pela ministra britânica Theresa May, com a concordância da UE, foi rejeitado três vezes no Parlamento. Isso a levou a deixar o cargo em junho. Para o lugar de Theresa May, foi eleito Boris Johnson, que prometeu, durante a campanha, que o Reino Unido sairá da UE dentro do prazo, com ou sem acordo. Agora, o próximo prazo para que o Reino Unido decida sobre seu vínculo com o bloco é 31 de outubro de 2019".

(Disponível em: <https://www.bbc.com>. Acesso em: 30 out. 2019. Adaptado).

Referente ao quadro político atual do Reino Unido, assinale a alternativa correta.

- A) Os países envolvidos nesta problemática atual, pertencentes ao Reino Unido, são Inglaterra, Escócia e Irlanda do Norte.
- B) A insatisfação com as medidas de austeridade da UE em tempos de crise é uma das motivações para a saída do Reino Unido do bloco.
- C) A saída do Reino Unido da UE é apelidada de BRICS.
- D) Os princípios de cooperação, não discriminação, solidariedade e democracia da UE atualmente estão sendo questionados por alguns movimentos e partidos de extrema esquerda na Europa.
- E) No caso dos países do Reino Unido, a chegada de imigrantes não pode ser considerada uma motivação para o fortalecimento de comportamentos extremistas, visto que, para 100% da população do Reino Unido, os imigrantes são bem-vindos e promovem o enriquecimento geral da nação.

**50** - "Com a rota bioceânica e três novos portos, cidade de MS deve se transformar em 'hub logístico' do país: com a viabilização do corredor rodoviário bioceânico, em um intervalo de 3 a 4 anos, o município de Porto Murtinho pode passar a receber fluxo de até 700 caminhões por dia, passando pela rota e por portos", se tornando um grande centro de importação e exportação".

(Disponível em: <https://g1.globo.com>. Acesso em: 30 out. 2019. Adaptado).

Referente ao corredor bioceânico, assinale a alternativa correta.

- A) Um dos objetivos do corredor bioceânico é estimular o desenvolvimento de projetos de integração produtiva e não a agregação

de valor nos países de origem e de destino.

- B) A conexão viária terá início em Mato Grosso do Sul, na cidade de Porto Murtinho, e cruzará o território boliviano até o Chile.
- C) O corredor rodoviário bioceânico visa à criação de uma conexão viária entre o Centro-Oeste brasileiro e o Pacífico, ligando Brasil, Paraguai, Argentina e Chile.
- D) A criação do corredor bioceânico não visa a estimular o uso de mais de um modal, mas sim a formação de parcerias
- E) O corredor bioceânico é um dos projetos do Mercosul (Mercado Comum do Sul)

**51** - Observe a imagem a seguir:



(Fonte: <https://www.instagram.com/fotosnahistoria/> Acessado em 12 out. de 2019).

A imagem é referente ao momento em que o deputado Ulysses Guimarães declara promulgada a nova Constituição do Brasil no ano de 1988. Sobre este momento histórico para a democracia do País, assinale a alternativa correta.

- A) Representou a confirmação do poder político das elites no Brasil após o período conhecido como regime militar.
- B) Abordou muito mais o viés político-partidário do que o social, pois garantiu, após duas décadas, o pluripartidarismo e o retorno à democracia representativa no Brasil.

- C) Conferiu ao Brasil uma nova constituição, muito mais democrática e cidadã, que atendia às reais necessidades do País no momento de sua redemocratização.
- D) Não causou grande impacto no País, pois a crise econômica vivenciada nos anos 1980, com taxas inflacionárias estratosféricas, não permitia qualquer ação governamental que não atuasse no campo econômico.
- E) Promulgada durante o governo de Fernando Collor de Mello, a Constituição de 1988 foi um marco para a democracia do País, pois era a confirmação do retorno dos direitos civis e do fim da ditadura militar.

**52 -** O filme *Joker* (*Coringa*, no Brasil) teve sua estreia nos cinemas mundiais em outubro de 2019, alcançando grande sucesso de bilheteria e crítica no mundo todo. O enredo do filme tem como principal personagem o comediante decadente Arthur Fleck que sofre com injustiças sociais ao ser humilhado e ridicularizado em seu trabalho e em relação à sua origem familiar, em especial quando aparece em um programa de auditório de abrangência nacional. A partir destes acontecimentos, associados à situação de calamidade da cidade de Gotham City, naquele momento promovida pelo descaso de seus governantes, Fleck encontra espaço propício para promover o que ele acredita ser a equiparação da justiça social. Neste sentido, o filme é concluído com Gotham City em estado caótico e com a figura do palhaço (*Coringa*) sendo o principal causador do pandemônio social. A partir dessa perspectiva, é correto afirmar que a contestação à ordem social e política vigente proposta pelo filme é:

- A) uma crítica ao sistema capitalista, já que Arthur Fleck não encontra um trabalho digno e passa a confrontar a exclusão proposta pelo sistema econômico, assim como outros setores da sociedade que são marginalizados e excluídos.
- B) uma contraposição dos direitos individuais que são diminuídos ou minimizados, em detrimento dos direitos coletivos na sociedade contemporânea.
- C) a confirmação de que a sociedade atual é fundamentada pela corrupção dos governantes e pela alienação social, sendo o caos a anomalia política que permite uma melhor compreensão da sociedade.
- D) a percepção de que o mundo atual é regido por leis que permitem a manifestação da violência urbana e da desordem social, diferente do que propõe, na teoria, um modelo político igualitário e democrático.
- E) a revisão dos valores éticos e morais da sociedade contemporânea, visto que a crítica proposta promove uma reflexão

sobre o papel da democracia e da cidadania nos dias atuais.

**53 -** Sobre a transição do modelo político imperial no Brasil e a implantação da república, é correto afirmar que:

- A) foi um evento isolado da história nacional, já que não contou com o apoio de nenhum grupo ou classe social, apenas os militantes do Partido Republicano, que acabaram tomando o poder e logo em seguida repassando-o aos militares, classe social emergente.
- B) contando com amplo apoio popular, a tomada do poder pelos militares foi um evento que gerou grande repercussão até mesmo pela resistência oferecida pelo imperador em deixar o trono brasileiro.
- C) evento sem grande mobilização popular, a proclamação da república no Brasil não necessitou de maiores esforços para tirar Dom Pedro II do trono, visto que a governança imperial já se encontrava desgastada e a pressão exercida pelos militares (classe social em ascensão) foi suficiente para a troca de poder.
- D) a república brasileira surge em meio à contestação popular sobre a abolição da escravidão, que foi concretizada apenas um ano antes, e os militares não gozavam de prestígio junto aos setores populares, pois haviam se posicionado contra a abolição.
- E) o cenário que se desenhava durante a proclamação da república era de crise econômica, com a abolição da escravidão e o conseqüente encarecimento da produção de café, e a de desgaste político, já que os militares haviam se afastado do cenário político desde a Guerra do Paraguai.

**54 -** A chegada de Getúlio Vargas à presidência do Brasil (1930) é um marco para a história nacional e envolta em uma série de acontecimentos. Entre estes acontecimentos, podemos destacar que o cenário para o golpe se apresentava da seguinte forma:

- A) pela Aliança Liberal, o candidato gaúcho Getúlio Vargas foi eleito com a maioria dos votos contra o representante do PRP, Júlio Prestes, que não aceitou o resultado das eleições e contestou a eleição.
- B) insatisfeito com o resultado das eleições nas urnas, derrotado por Júlio Prestes (PRP) em 1930, Vargas apresentou resistência e promoveu a chamada Revolução de 1930, evento que ocorreu no momento em que a política das oligarquias estava desgastada e gerando insatisfação popular.
- C) Vargas chegou ao poder por meio de um golpe denominado Revolução de 1930 e

que contou com o apoio de cafeicultores dissidentes do PRP e PRM, além de manter a política agroexportadora, associada aos interesses oligárquicos latifundiários.

- D) o governo de Washington Luís (1926 – 1930) apoiou a candidatura de Getúlio Vargas para o cargo de presidente e, após a derrota diante do candidato paulista, apoiou a Revolução de 1930, que impediu a posse de Júlio Prestes e colocou no posto de presidente o candidato gaúcho.
- E) Getúlio Vargas chegou ao poder por meio da Revolução de 1930, uma revolta armada, e deu prosseguimento à política de valorização dos trabalhadores, promulgando a CLT ainda durante o governo provisório, fato que deu a ele a confiança e o apoio popular para se manter no poder.

**55 -** Em 11 de novembro de 1919, a Primeira Guerra Mundial chegou ao fim, deixando um saldo aproximado de 10 milhões de mortos e 30 milhões de feridos entre civis e militares, segundo o historiador inglês Eric Hobsbawm (2013). Nesse contexto, alguns acordos de paz foram estabelecidos. Assinale a alternativa correta que congrega os principais pontos do Tratado de Versalhes.

- A) Estabeleceu a divisão e a anexação do território alemão entre os países vencedores após 1919.
- B) Estabeleceu a divisão dos custos ocasionados pela guerra entre os membros da Tríplice Aliança e da Tríplice Entente.
- C) Responsabilizou a Alemanha como causadora do conflito e impôs reparações aos países da Tríplice Entente.
- D) Responsabilizou apenas o Império Austro-Húngaro e Império Otomano como causadores do conflito.
- E) Estabeleceu que cada país participante do conflito arcaisse com os próprios custos e reparações para o retorno da normalidade no continente Europeu.

**56 -** Leia o fragmento a seguir.

“Não é uma revolução industrial. Não se origina numa inovação técnica. É uma crise. Tampouco é a primeira, visto que as crises econômicas se tinham reproduzido no século XIX em ritmo regular, a ponto de aparecer como constitutivas do sistema capitalista. [...] Mas a crise de 1929 difere das anteriores, sobretudo por sua repercussão”.

(RÉMOND, Réne. *O século XX: de 1914 aos nossos dias*. Rio de Janeiro: Apicuri, 2015. p.97).

A Crise de 1929 é considerada uma das piores pelas quais o sistema capitalista já passou.

Assinale a alternativa correta em relação aos fatores que a provocaram.

- A) Foi desencadeada devido à queda de oferta do petróleo pelo Império Otomano após a Primeira Guerra Mundial, o que disparou o preço do petróleo e aumentou o custo de vida em vários países.
- B) Foi motivada por grandes perdas no mercado imobiliário e a falta de liquidez bancária na Europa, sendo isso uma consequência dos efeitos da Primeira Guerra Mundial.
- C) Foi gerada a partir dos gastos excessivos dos países que atuaram direta e indiretamente na Primeira Guerra Mundial, o que provocou um enorme déficit financeiro e descontrole fiscal.
- D) Teve origem em bancos norte-americanos que tomaram calote em relação a empréstimos realizados aos países europeus, que procuravam se reconstruir após a Primeira Guerra Mundial.
- E) Ocorreu nos Estados Unidos após a expansão de crédito, o aumento da produção industrial e a especulação financeira.

**57 -** Leia o texto a seguir.

“Campo Grande [...] consolidou-se como segundo centro político do Estado. Na verdade, a projeção econômica do Sul, desde o começo do século XX, vinha se incrementando. Desde o fim da Guerra do Paraguai, os fluxos demográficos não paravam de crescer e Campo Grande, secundada por Corumbá e Três Lagoas, configurava-se como polo econômico da região. [...] Enquanto novas perspectivas econômicas se abriam nas terras mais ao sul de Mato Grosso, graças a expansão da agropecuária no Sudeste brasileiro, Cuiabá sofria desde o final do século XVIII, os resultados do esgotamento dos filões auríferos que trouxeram consigo o êxodo da população”.

(BITTAR, Marisa. *Geopolítica e separatismo na elevação de Campo Grande a capital*. Campo Grande: Ed. UFMS, 1999. p.70-71).

Além dos fatores mencionados por Marisa Bittar no fragmento acima, assinale a alternativa correta em relação a fatores adicionais que ajudaram na dinamização da economia do sul do antigo Mato Grosso.

- A) O sul de Mato Grosso se beneficiou da produção do café, principal produto exportado pelo Brasil no período.
- B) A construção da Estrada de Ferro Noroeste do Brasil, que interligou o sul de Mato Grosso ao sudeste do País, favorecendo a escoação da produção econômica.
- C) Além da expansão agropecuária, a borracha se tornou um dos principais



produtos da cadeia produtiva do sul de Mato Grosso.

- D) A construção da Estrada de Ferro Noroeste do Brasil, que interligou Cuiabá a Bauru, favorecendo o escoamento da produção econômica.
- E) A navegação fluvial dos rios Aquidauana e Miranda foi a principal fonte de escoamento da produção do sul do estado na primeira metade do século XX.

**58 -** Com relação ao conceito de ideologia na visão marxista, assinale a alternativa correta.

- A) Os ideais mais disseminados são os da classe mais numerosa.
- B) A classe dominante impõe sua visão de mundo para toda sociedade.
- C) A ideologia é dividida em orgânica e mecânica.
- D) A ideologia não tem centralidade na vida social.
- E) A ideologia das classes dominadas alienaria as classes dominantes.

**59 -** A série de televisão americana *The good place* (O lugar bom), que estreou em 2016, mostrou que poderia ensinar importantes conceitos filosóficos utilizando a comédia. O enredo da série segue as aventuras de Eleanor Shellstrop, que em um dia qualquer morre e acorda no "lugar bom". Como o nome indica, é o lugar onde as pessoas boas vão após a morte. Eleanor percebe que está no lugar errado, pois não era uma pessoa boa na Terra. Com medo de ser descoberta, ela passa a ter aulas com o professor de Filosofia moral Chidi Anagonye, seguidor de Immanuel Kant.

Assinale a alternativa correta em relação ao conceito de "imperativo categórico", desenvolvido por Kant.

- A) O imperativo categórico consiste em propiciar felicidade aos homens.

- B) Ensina que o homem deve desprezar os prazeres e a riqueza material.
- C) Os mandamentos supremos religiosos devem atuar como reguladores do comportamento humano.
- D) O imperativo categórico consiste em seguir uma ideia como forma de alcançar determinada finalidade.
- E) Defende que todos se comportem a partir de uma consciência ética e moral e não pelo receio de punição caso alguém aja de forma contrária àquilo que é considerado correto.

**60 -** Max Weber foi um importante intelectual que desenvolveu ao longo de sua vida uma ampla produção de análise social. Um de seus estudos diz respeito à questão da estratificação social. Nesse campo, um dos principais tipos de estratificações sociais estudados por Weber foi o de "estamento", característico do período medieval.

Assinale a alternativa correta em relação a como Weber caracterizou as sociedades estamentais.

- A) Para Weber, as sociedades estamentais levavam em consideração apenas aspectos econômicos em sua organização.
- B) Para Weber, a luta social do indivíduo centrava-se na busca por honra e prestígio.
- C) Para Weber, as sociedades estamentais levavam em consideração apenas a acumulação de metais em sua organização.
- D) Para Weber, a principal característica das sociedades estamentais era a mobilidade social em sua organização.
- E) Para Weber, a principal característica da sociedade estamental era a sua organização a partir do ponto de vista religioso.

## REDAÇÃO

### PROPOSTA DE REDAÇÃO

Leia, com atenção, os textos a seguir. Eles servem como uma motivação inicial para o desenvolvimento de sua redação.

I - O relatório *Safeguarding human health in the Anthropocene epoch*, da Rockefeller Foundation em parceria com a *Lancet*, ressalta que os perigos apresentados à espécie humana em razão da degradação ambiental exigirão uma ação coletiva urgente, tanto em nível global como local, e a cooperação será indispensável. (...)

Algumas das medidas apontadas pelo relatório para diminuir os impactos da degradação ambiental na saúde humana são

proteger os recursos hídricos, combater e reduzir o desperdício de alimentos, investir em planos escaláveis e modelos de financiamento para a implementação de energias renováveis e incentivar o investimento regional em infraestrutura de transporte urbano. (*Agência FAPESP*)

(<http://agencia.fapesp.br/degradacao-ambiental-ameaca-a-saude-humana/21949/> Acesso em: 8 nov. 2019).

II - Corumbá foi afetada entre ontem (29) e hoje (30 de outubro) por diversas oscilações no fornecimento de energia elétrica. Em nota, a Energisa, concessionária responsável pela distribuição de energia elétrica em 74 dos 79 municípios do estado, informou que os

incêndios afetaram a linha de transmissão, mas que é de responsabilidade de outra empresa. "As queimadas provocam o desligamento dessas linhas e consequentes variações de tensão na rede elétrica que atende Corumbá, Aquidauana e Miranda", diz o texto.

Já a Oi informou que as queimadas também estão afetando os serviços de internet fixa, causando o rompimento de um cabo de fibra ótica que atende Corumbá e Miranda, afetando parcialmente o serviço. Telefonia fixa e móvel não foram afetadas. O restabelecimento será feito assim que possível, sob orientação do Corpo de Bombeiros.

(<https://www.correiodoestado.com.br/cidades/incendios-destroem-50-mil-hectares-e-cortam-energia-e-internet/362905/>. Acesso em: 08 nov. 2019).

III- Um milhão de espécies de animais e plantas estão ameaçadas de extinção, segundo o relatório da Plataforma Intergovernamental de Políticas Científicas sobre Biodiversidade e Serviços de Ecossistema (IPBES). A plataforma da Organização das Nações Unidas (ONU) contou com 145 cientistas de 50 países, no que é o considerado o relatório mais extenso sobre perdas do meio ambiente.

O estudo [...] foi feito com base na revisão de mais de 15 mil pesquisas científicas e fontes governamentais. Os cientistas destacam cinco principais causas de mudanças de grande impacto na natureza nas últimas décadas: perda de habitat natural; exploração das fontes naturais; mudanças climáticas; poluição e espécies invasoras.

(<https://g1.globo.com/natureza/noticia/2019/05/06/um-milhao-de-especies-de-plantas-e-animais-estao-ameacadas-de-extincao-segundo-relatorio-da-onu.ghtml>. Acesso em: 08 nov. 2019).

Considerando a abordagem de cada um dos textos motivadores, reflita e elabore um texto dissertativo-argumentativo a respeito de como as questões relacionadas ao meio ambiente se fazem presentes no cotidiano de todos nós, tomando como eixo para sua discussão um ou mais dos seguintes tópicos: a) preservação ambiental e ações de prevenção, b) sustentabilidade, c) consequências da degradação ambiental para a vida humana ou d) preservação e desenvolvimento econômico.

### **Critérios de Avaliação**

- Serão considerados os seguintes aspectos, conforme especificado no item III do anexo único do Edital Prograd/UFMS Nº 203/2019, cujo texto segue transcrito:
  - ✓ Estrutura e desenvolvimento do texto dissertativo-argumentativo;
  - ✓ Organização e progressão textual;
  - ✓ Adequação temática;
  - ✓ Aspectos de coesão e coerência do texto; e
  - ✓ Emprego da norma padrão da língua portuguesa.
- O candidato deverá preencher a Folha de Redação, em letra legível, com caneta de tinta preta ou azul fabricada em material transparente, não havendo substituição da Folha de Redação por causa de erro no seu preenchimento, ficando expressamente proibida a utilização de qualquer corretivo.
- A Prova de Redação será avaliada de zero a cem pontos, sendo convertida posteriormente para o intervalo entre zero e mil pontos, objetivando compor a Nota Final (NF) do candidato.
- Receberá nota ZERO na redação e será ELIMINADO do Programa de Avaliação Seriada Seletiva (PASSE) Triênio 2017-2019 – 3º Etapa o candidato que:
  - ✓ não produzir o gênero textual solicitado;
  - ✓ fugir à temática proposta e à tipologia proposta;
  - ✓ apresentar, na Folha de Redação, qualquer marca, desenho ou elemento que o identifique;
  - ✓ empregar menos de 15 ou mais de 30 linhas em seu texto;
  - ✓ não apresentar seu texto na Folha de Redação;
  - ✓ entregar a Folha de Redação em branco;
  - ✓ apresentar a redação com letra ilegível;
  - ✓ apresentar a redação com espaçamento excessivo entre letras, palavras, linhas, parágrafos e margens;
  - ✓ apresentar a redação desarticulada verbalmente, ou ainda com códigos alheios à Língua Portuguesa escrita;
  - ✓ apresentar a redação apenas com números, escrita a lápis, ou a tinta, em cor diferente da azul ou preta.

### **RASCUNHO**

1 \_\_\_\_\_

2 \_\_\_\_\_

3 \_\_\_\_\_

4 \_\_\_\_\_

5  
6  
7  
8  
9  
10  
11  
12  
13  
14  
15  
16  
17  
18  
19  
20  
21  
22  
23  
24  
25  
26  
27  
28  
29  
30  
31  
32  
33  
34  
35  
36  
37  
38  
39  
40  
41  
42